



**Ce mărimi fizice
caracterizează mișcarea circulară
uniformă și cum se definesc ele?**




Două puncte aflate pe acul secundar al unui ceas la o anumită distanță au aceeași (perioadă? frecvență? Viteză? Viteză unghiulară?)



Dacă mișcarea circulară este uniformă, viteza cu care se mișcă corpul este mereu aceeași.

Cu toate acestea vorbim despre accelerație, pe care o și calculăm. De ce? Care este expresia acesteia?



Asupra corpului ce se mișcă uniform pe cerc
acționează vreo forță? De ce?